




# 4.



Navn: \_\_\_\_\_

Klasse: \_\_\_\_\_

Lærer: \_\_\_\_\_



## 1) Taldiktat

--	--	--	--	--	--	--	--	--	--

## 2) Tallinje

Placer tallene på tallinjen.



## 3) Regnestrategi

$56 + 35 = \underline{\quad}$

$403 - 15 = \underline{\quad}$

Hvordan vil du regne facit ud?

---



#### **4) Facit er 128**


Facit skal være 128 - lav et nemt regnestykke, et svært og et smart.

Forklar din lærer, hvorfor det er nemt, svært eller smart.



## 5) Geometri

Kan du tegne tre forskellige firkanter?





Kan du tegne en figur og spejle den?



## 6) Omsætning

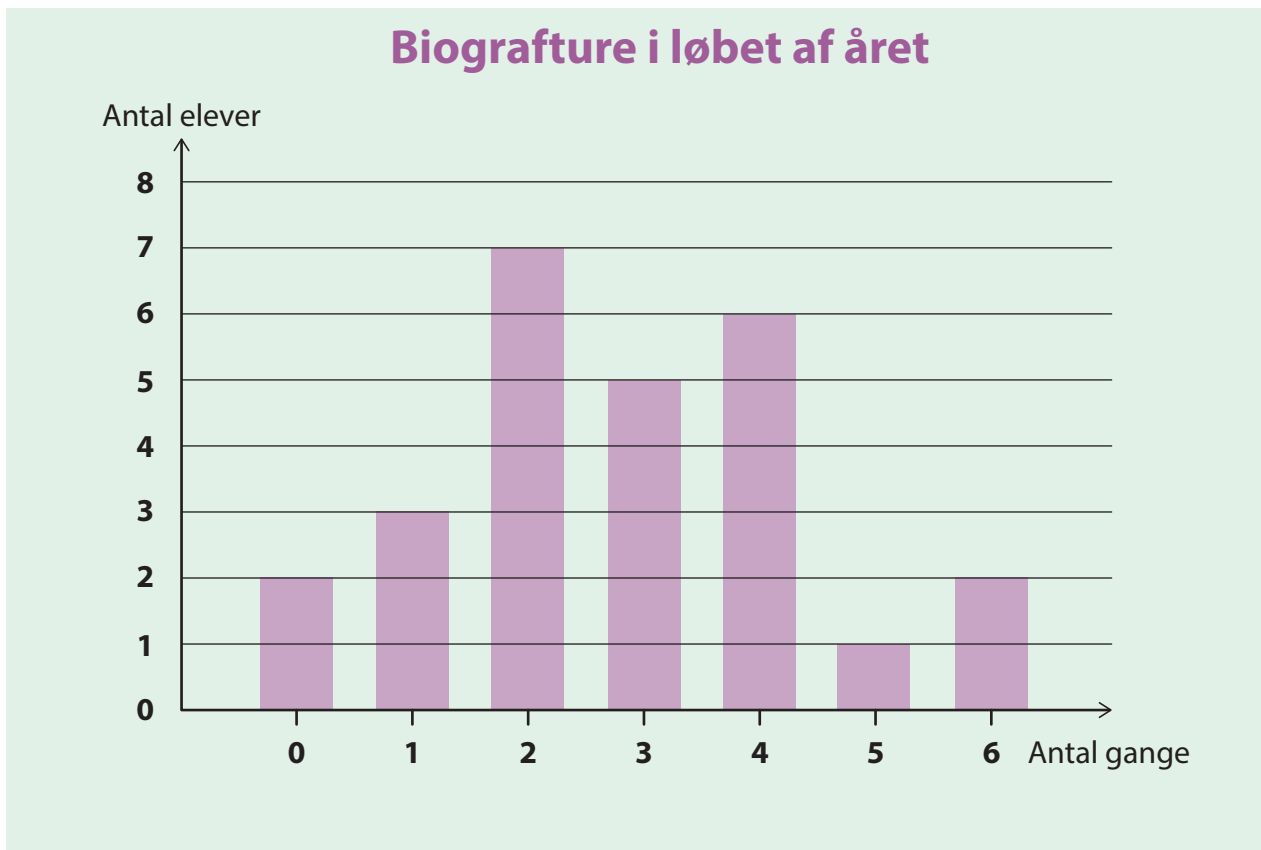
Fortæl nogle af de mål, du kender.





## 7) Statistik

Hvad fortæller diagrammet?





## 8) Sandsynlighed

Undersøg og vurder chancen for at lande på de blå felter i hvert lykkehjul.

