




# 0.



Navn: \_\_\_\_\_

Klasse: \_\_\_\_\_

Lærer: \_\_\_\_\_

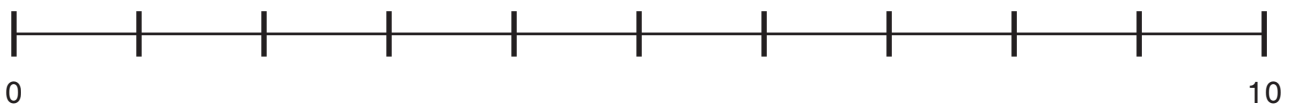


## 1) Taldiktat

Skriv de tal du hører


## 2) Tallinje

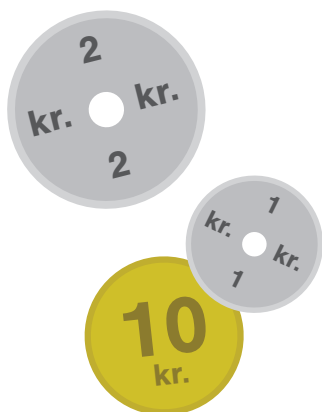



Placer følgende tal på linjen: 1 - 3 - 4 - 7 - 8






### 3) Tælleopgave

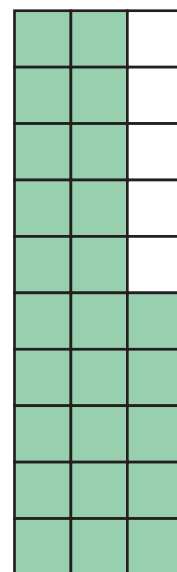
Hvor mange er der?



?



?




?



## 4) Farv antallet

Farv det rigtige antal

Farv 6 æbler




Farv 8


Farv 14


Farv 32



## 5) Farv antallet

Tegn det rigtige antal

**3**

**6**

**14**



## 5) Geometri

Hvilke forskellige geometriske figurer kan du få øje på?





## 6) Regnehistorie

Elsa har 5 æbler og Anna har 3 æbler. Tegn hvor mange æbler de har tilsammen.

Kan du også skrive regnestykket?

